

**Проверочная работа  
по МАТЕМАТИКЕ**

**5 класс (по программе начальной школы)**

**Вариант 1**

**Инструкция по выполнению работы**

На выполнение работы по математике даётся 45 минут. Работа содержит 12 заданий.

В заданиях, после которых есть поле со словом «Ответ», запиши ответ в указанном месте.

В заданиях 5 (пункт 2) и 11 нужно сделать чертёж или рисунок. В задании 10 нужно записать ответ, заполнив приведенную форму.

В заданиях, после которых есть поле со словами «Решение» и «Ответ», запиши решение и ответ в указанном месте.

Если ты хочешь изменить ответ, то зачеркни его и запиши рядом новый.

При выполнении работы нельзя пользоваться учебниками, рабочими тетрадями, справочниками, калькулятором.

При необходимости можно пользоваться черновиком. Записи в черновике проверяться и оцениваться не будут.

Советуем выполнять задания в том порядке, в котором они даны. Для экономии времени пропускай задание, которое не удаётся выполнить сразу, и переходи к следующему. Постарайся выполнить как можно больше заданий.

***Желаем успеха!***









1 Вычисли:  $311 + 79$ .

□	Ответ:	
---	--------	--

2 Вычисли:  $17 + (27 + 18) : 3$ .

□	Ответ:	
---	--------	--

3 В магазине продаются бакалейные товары в упаковках. На рисунке показаны цены.

Гречневая крупа.....79 руб. 	Перловая крупа.....43 руб. 	Пшеничная крупа.....45 руб. 
Манная крупа.....35 руб. 	Кукурузная крупа.....29 руб. 	Овсяные хлопья.....37 руб. 
Рис круглозёрный.....49 руб. 	Фасоль.....103 руб. 	Горох.....53 руб. 

Сколько всего рублей надо заплатить за две упаковки гороха и одну упаковку манной крупы? Запиши решение и ответ.

□	Решение.	
□	Ответ:	

4 В 2050 году 1 ноября — вторник. Какой день недели 30 ноября?

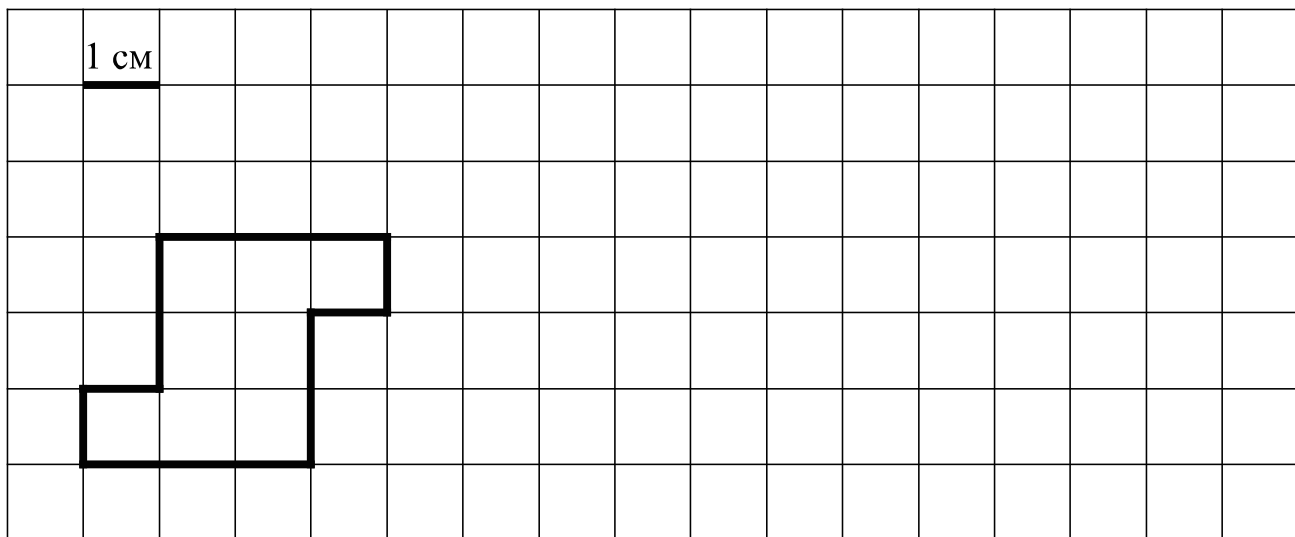
Ответ:	

5 Ниже на клетчатом поле со стороной клетки 1 см изображена фигура.

1) Найди периметр этой фигуры.

Ответ:	

2) На клетчатом поле рядом с фигурой нарисуй прямоугольник, периметр которого на 4 см больше периметра данной фигуры.



--	--





10

Марина написала сочинение «Наш дачный посёлок».

*Мы в школе недавно проходили, что такое артезианская скважина. Это когда из земли бьёт фонтан воды. Но в нашем посёлке из артезианской скважины вода бьёт не фонтаном, а маленьким фонтанчиком — даже ведро не наполнишь. Если встать около скважины лицом к пруду, то справа будет большая ель на участке Семёна Львовича. Он живёт на даче круглый год. А около самого пруда живёт сосед Семёна Львовича дядя Миша. Отчества дяди Миши я не знаю. Спрошу у бабушки. Наш дом ближе всех к детской площадке, когда я была маленькая, я там играла и качалась на качелях. Наш сосед Иван Михайлович у себя на участке устроил бассейн, и иногда мы туда ходим купаться, когда жарко.*

*Если въехать в наш посёлок через ворота, то справа у ворот дача Елены Сергеевны. Она раньше была актрисой в театре, а теперь на пенсии. Слева от ворот, напротив дома Елены Сергеевны, дача, где живёт Алексей Михайлович. Его участок граничит с дачей дяди Миши, но они почему-то не дружат и часто ссорятся. Мы с бабушкой ни с кем не ссоримся. Мою бабушку все в посёлке уважают. Она врач, и, если что-нибудь случится, все соседи к нам приходят за помощью.*

Рассмотри план дачного посёлка и, пользуясь описанием, которое дала Марина, обозначь цифрами на плане шесть участков.

1. Участок, где живёт автор сочинения Марина.
2. Участок Семёна Львовича.
3. Участок, где живёт дядя Миша.
4. Участок Ивана Михайловича.
5. Участок Елены Сергеевны.
6. Участок Алексея Михайловича.

