

**Проверочная работа
по предмету «ОКРУЖАЮЩИЙ МИР»**

5 класс (по программе начальной школы)

Вариант 1

Инструкция по выполнению работы

На выполнение работы по предмету «Окружающий мир» даётся 45 минут. Работа состоит из двух частей и включает в себя 10 заданий.

Ответы на задания запиши в поле ответа в тексте работы.

При выполнении работы не разрешается пользоваться учебником, рабочими тетрадями и другим справочным материалом.

Советуем выполнять задания в том порядке, в котором они даны. Для экономии времени пропускай задание, которое не удаётся выполнить сразу, и переходи к следующему. Постарайся выполнить как можно больше заданий.

Желаем успеха!

Часть 1

1

























Рассмотри рисунок, на котором изображён спортивный магазин. Кегли могут быть изготовлены из пластмассы. Они отмечены на рисунке стрелкой с соответствующей надписью.

Покажи на рисунке стрелкой любой предмет (любую деталь) из ткани и любой предмет (любую деталь) из дерева. Подпиши название соответствующего материала рядом с каждой стрелкой.



2

На интернет-сайтах погоды можно встретить подобные таблицы. Изучи прогноз погоды на трое суток по приведённой ниже таблице.

	Понедельник, 18 апреля				Вторник, 19 апреля				Среда, 20 апреля			
	Ночь	Утро	День	Вечер	Ночь	Утро	День	Вечер	Ночь	Утро	День	Вечер
Облачность и атмосферные осадки												
Температура воздуха, °С	6	7	10	7	8	10	14	9	8	10	15	12
Направление ветра												
	СЗ	СЗ	С	З	З	З	Ю	Ю	Ю	Ю	Ю	Ю
Влажность воздуха, %	82	78	75	77	81	77	69	74	74	73	69	80

Выбери верные утверждения об ожидаемой погоде на эти трое суток и запиши в строку ответа их номера.

- 1) Температура воздуха в среду не превысит 15 °С.
- 2) Во вторник ночью и утром будет дуть западный ветер.
- 3) Влажность воздуха во вторник не поднимется выше 69%.
- 4) Утром в понедельник возможен кратковременный дождь.

Ответ: _____

3) Рассмотрю карту. На ней буквами А и Б отмечены две природные зоны.



3.1. Запиши название каждой природной зоны в отведённое для этого поле.

Название природной зоны (А): _____ Название природной зоны (Б): _____

3.2. На следующей странице представлены фотографии дуба, зубра, северного оленя и лемминга. Запиши название каждого из этих животных и растения рядом с номером фотографии, на которой оно изображено.

1) _____ 2) _____
3) _____ 4) _____

3.3. Какие из этих животных обитают и какое растение произрастает в естественной среде (не в зоопарке и не в ботаническом саду) на территории природной зоны А, а какие – природной зоны Б? Запиши **номера** фотографий с изображением этих животных и растения в таблицу под соответствующими буквами.

Ответ:


Природная зона	А	Б
Животные и растение		



1)



2)

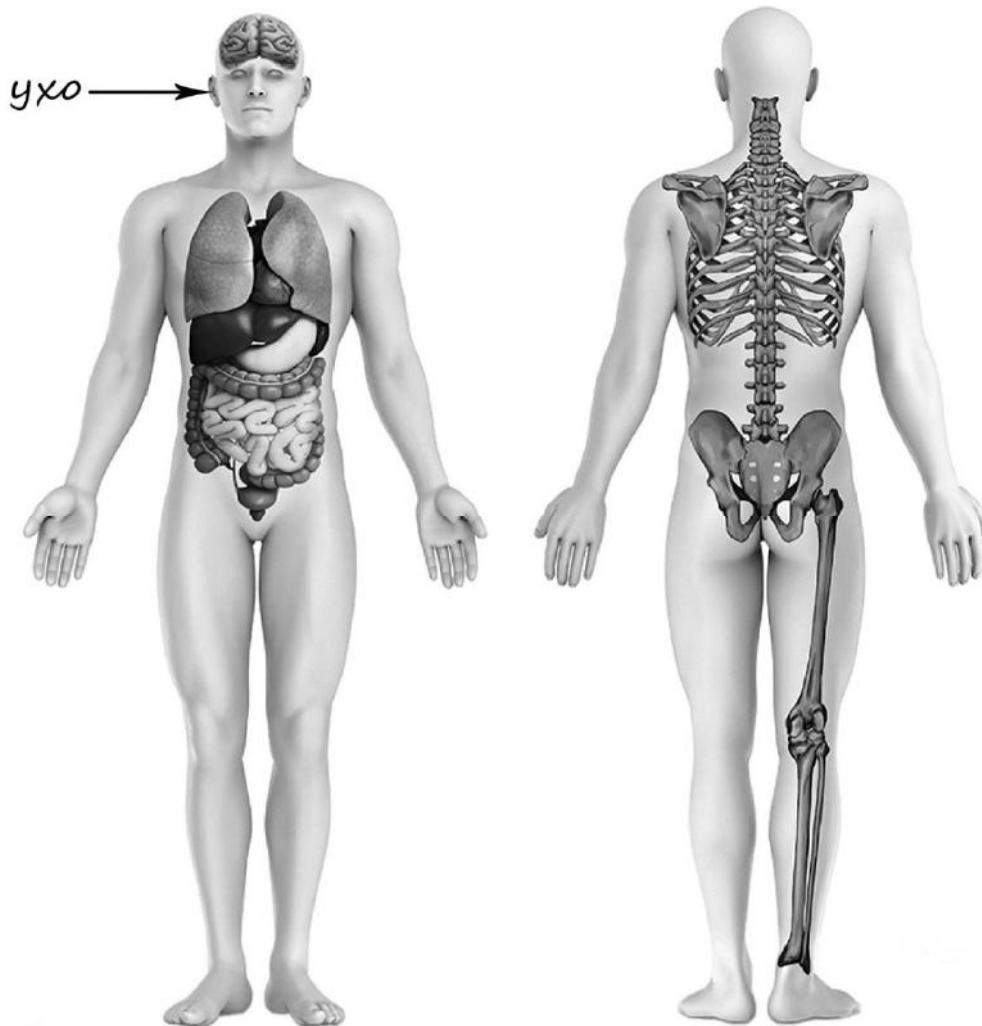


3)



4)

4) Рассмотрите изображение человека. Покажите стрелками и подпишите шею, бедро и лопатку человека так, как показано на примере.



5) Составьте два правила сохранения здоровья и правильного поведения человека из приведённых частей фраз: для этого к каждой позиции первого столбца выберите соответствующую позицию из второго столбца.

Начало фразы

Продолжение фразы

- | | |
|--|---|
| <p>А) Чтобы избежать переохлаждения во время прогулки,</p> <p>Б) Чтобы не заразиться во время эпидемии гриппа,</p> | <p>1) нужно одеваться по погоде.</p> <p>2) нужно регулярно делать оздоровительную гимнастику и больше бывать на воздухе.</p> <p>3) нужно в общественных местах одевать медицинскую повязку.</p> |
|--|---|

Запиши в таблицу выбранные цифры под соответствующими буквами.

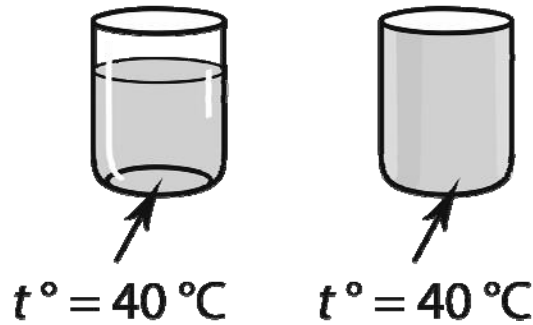


Ответ:

Начало фразы	А	Б
Продолжение фразы		

6

Анатолий проводил наблюдения за растворением веществ в разных условиях. Чтобы выяснить, влияет ли прозрачность сосуда на скорость растворения сахара в нём, он взял два стакана одинаковой ёмкости, но один из них был из прозрачного стекла, а другой – из матового. Наполнив их водой одинаковой температуры, он опустил в каждый по одному кусочку сахара. Сосуды Анатолий поставил на стол и стал наблюдать за растворением сахара. Через одинаковое непродолжительное время сахар в обоих сосудах растворился.



6.1. Сравни условия, которые были в стаканах в описанном эксперименте. Подчеркни в каждой строке одно из выделенных слов.

Сосуды с водой:

одинаковые / различные

Количество сахара:

одинаковое / различное

6.2. По результатам эксперимента сделай вывод о том, влияет ли прозрачность сосуда на скорость растворения сахара.

Ответ: _____

6.3. Если бы Анатолий захотел выяснить, влияет ли состояние сахара (в виде сахарного песка или кусочков сахара) на продолжительность его растворения в воде, с помощью какого эксперимента он мог бы это сделать? Опиши этот эксперимент.


Ответ: _____

Часть 2

При выполнении заданий 7–10 последовательно отвечай на каждый из представленных вопросов. Ответы записывай чётко и разборчиво, соблюдая нормы речи.

7

Рассмотри знаки, изображённые на рисунках, и ответь на вопросы.



7.1. Какой из этих знаков можно встретить в театре?

Ответ.

Какое правило отражает этот знак?

Ответ: _____

7.2. Какие правила отражают два других знака? Запиши ответы в таблицу.

ЗНАК	ПРАВИЛО

8

На фотографиях изображены транспортные средства, на которых работают представители разных профессий. Выбери ОДНУ из фотографий и запиши букву, под которой она приведена.

Представители какой профессии работают на транспортном средстве, изображённом на выбранной фотографии? Если ты знаешь несколько профессий, представители которых работают на выбранном тобой транспортном средстве, назови одну любую из них. Какую работу выполняют люди этой профессии? Чем работа людей этой профессии полезна обществу?

А)



Б)



В)



Выбранная фотография:

Ответ: _____

9

Ежегодно 11 января в нашей стране отмечается День заповедников и национальных парков.



Обведи эту дату в календаре.

2020

Январь							Февраль							Март							Апрель						
ПН	ВТ	СР	ЧТ	ПТ	СБ	ВС	ПН	ВТ	СР	ЧТ	ПТ	СБ	ВС	ПН	ВТ	СР	ЧТ	ПТ	СБ	ВС	ПН	ВТ	СР	ЧТ	ПТ	СБ	ВС
		1	2	3	4	5						1	2							1			1	2	3	4	5
6	7	8	9	10	11	12	3	4	5	6	7	8	9	2	3	4	5	6	7	8	6	7	8	9	10	11	12
13	14	15	16	17	18	19	10	11	12	13	14	15	16	9	10	11	12	13	14	15	13	14	15	16	17	18	19
20	21	22	23	24	25	26	17	18	19	20	21	22	23	16	17	18	19	20	21	22	20	21	22	23	24	25	26
27	28	29	30	31			24	25	26	27	28	29	23	24	25	26	27	28	29	27	28	29	30				
													30	31													

Май							Июнь							Июль							Август								
ПН	ВТ	СР	ЧТ	ПТ	СБ	ВС	ПН	ВТ	СР	ЧТ	ПТ	СБ	ВС	ПН	ВТ	СР	ЧТ	ПТ	СБ	ВС	ПН	ВТ	СР	ЧТ	ПТ	СБ	ВС		
				1	2	3											1	2	3	4	5							1	2
4	5	6	7	8	9	10	8	9	10	11	12	13	14	6	7	8	9	10	11	12	3	4	5	6	7	8	9		
11	12	13	14	15	16	17	15	16	17	18	19	20	21	13	14	15	16	17	18	19	10	11	12	13	14	15	16		
18	19	20	21	22	23	24	22	23	24	25	26	27	28	20	21	22	23	24	25	26	17	18	19	20	21	22	23		
25	26	27	28	29	30	31	29	30					27	28	29	30	31			24	25	26	27	28	29	30			
																				31									

Сентябрь							Октябрь							Ноябрь							Декабрь													
ПН	ВТ	СР	ЧТ	ПТ	СБ	ВС	ПН	ВТ	СР	ЧТ	ПТ	СБ	ВС	ПН	ВТ	СР	ЧТ	ПТ	СБ	ВС	ПН	ВТ	СР	ЧТ	ПТ	СБ	ВС							
											1	2	3	4							1								1	2	3	4	5	6
7	8	9	10	11	12	13	5	6	7	8	9	10	11	2	3	4	5	6	7	8	7	8	9	10	11	12	13							
14	15	16	17	18	19	20	12	13	14	15	16	17	18	9	10	11	12	13	14	15	14	15	16	17	18	19	20							
21	22	23	24	25	26	27	19	20	21	22	23	24	25	16	17	18	19	20	21	22	21	22	23	24	25	26	27							
28	29	30					26	27	28	29	30	31	23	24	25	26	27	28	29	28	29	30	31											

Запиши, на какой день недели приходится эта дата в 2020 году.



Ответ: _____

Как ты думаешь, зачем во всех странах мира создают заповедники? (Напиши ответ объёмом до пяти предложений.)



Ответ: _____

10

10.1. Запиши название региона: республики, или области, или края, или автономного округа, в котором ты живёшь.

Ответ: _____

Как называется главный город твоего региона?

Ответ: _____

10.2. Какая река или какое озеро, побережье какого моря или какие горы есть в твоём регионе?

Ответ: _____

Какие музеи находятся в твоём регионе (укажи не менее двух музеев)? Напиши о своём посещении одного из этих музеев (какие экспонаты представлены, что тебя больше всего заинтересовало, что понравилось).

Ответ: _____
