

**Проверочная работа
по ИСТОРИИ**

7 класс (по программе 6 класса)

Вариант 2

Инструкция по выполнению работы

На выполнение работы по истории даётся 60 минут. Работа включает в себя 10 заданий. Часть 1 работы посвящена истории России и истории зарубежных стран (история Средних веков), в части 2 предложены задания по истории Вашего родного края.

Ответы на задания запишите в поля ответов в тексте работы. В случае записи неверного ответа зачеркните его и запишите рядом новый.

При необходимости можно пользоваться черновиком. Записи в черновике проверяться и оцениваться не будут.

Советуем выполнять задания в том порядке, в котором они даны. В целях экономии времени пропускайте задание, которое не удаётся выполнить сразу, и переходите к следующему. Если после выполнения всей работы у Вас останется время, то Вы сможете вернуться к пропущенным заданиям.

Желаем успеха!


Часть 1

В этой части работы даны задания по истории России и истории зарубежных стран (история Средних веков).

Прочтите перечень из четырёх событий (процессов) и выполните задания, относящиеся к этому перечню.

- Перечень событий (процессов)**
- А) объединение Франции в XII–XV вв. Б) внешняя политика древнерусских князей в X–XI вв.
- В) политическое развитие Северо-Восточной Руси во второй половине XII в. Г) защита русских земель от вторжений с северо-запада в XIII в.

1 Каждая из иллюстраций, приведённых ниже, относится к одному из указанных в перечне событий (процессов). Установите соответствие между событиями (процессами) и иллюстрациями: к каждому событию (процессу) подберите по одной иллюстрации.



Запишите в таблицу выбранные цифры под соответствующими буквами.

□

Ответ:

А	Б	В	Г

Перечень событий (процессов)

А) объединение Франции в XII–XV вв.

Б) внешняя политика древнерусских князей в X–XI вв.

В) политическое развитие Северо-Восточной Руси во второй половине XII в.

Г) защита русских земель от вторжений с северо-запада в XIII в.

2

Прочтите отрывок из исторического источника и определите, к какому из данных событий (процессов) он относится. В ответе напишите букву, которой обозначено это событие (процесс).

«После победы Александровой, когда победил он короля, на третий год, в зимнее время, пошёл он с великой силой на землю псковскую, ибо уже был взят немцами город Псков. И пришли немцы к Чудскому озеру, и встретил их Александр, и изготовился к бою, и пошли они друг против друга, и покрылось озеро Чудское множеством тех и других воинов. Отец Александра, Ярослав, прислал ему на помощь младшего брата Андрея с большою дружиною. Да и у князя Александра было много храбрых воинов, как в древности у Давида-царя, сильных и стойких. Так и мужи Александра исполнились духа ратного, ведь были сердца их, как сердца львов, и воскликнули: "О княже наш славный! Ныне пришло нам время положить головы свои за тебя"».

Ответ:

3

С каким из данных событий (процессов) связано словосочетание «Хазарский каганат»? Запишите букву, которой обозначено данное событие (процесс).

Ответ:

Объясните смысл словосочетания «Хазарский каганат».

Ответ: _____

4

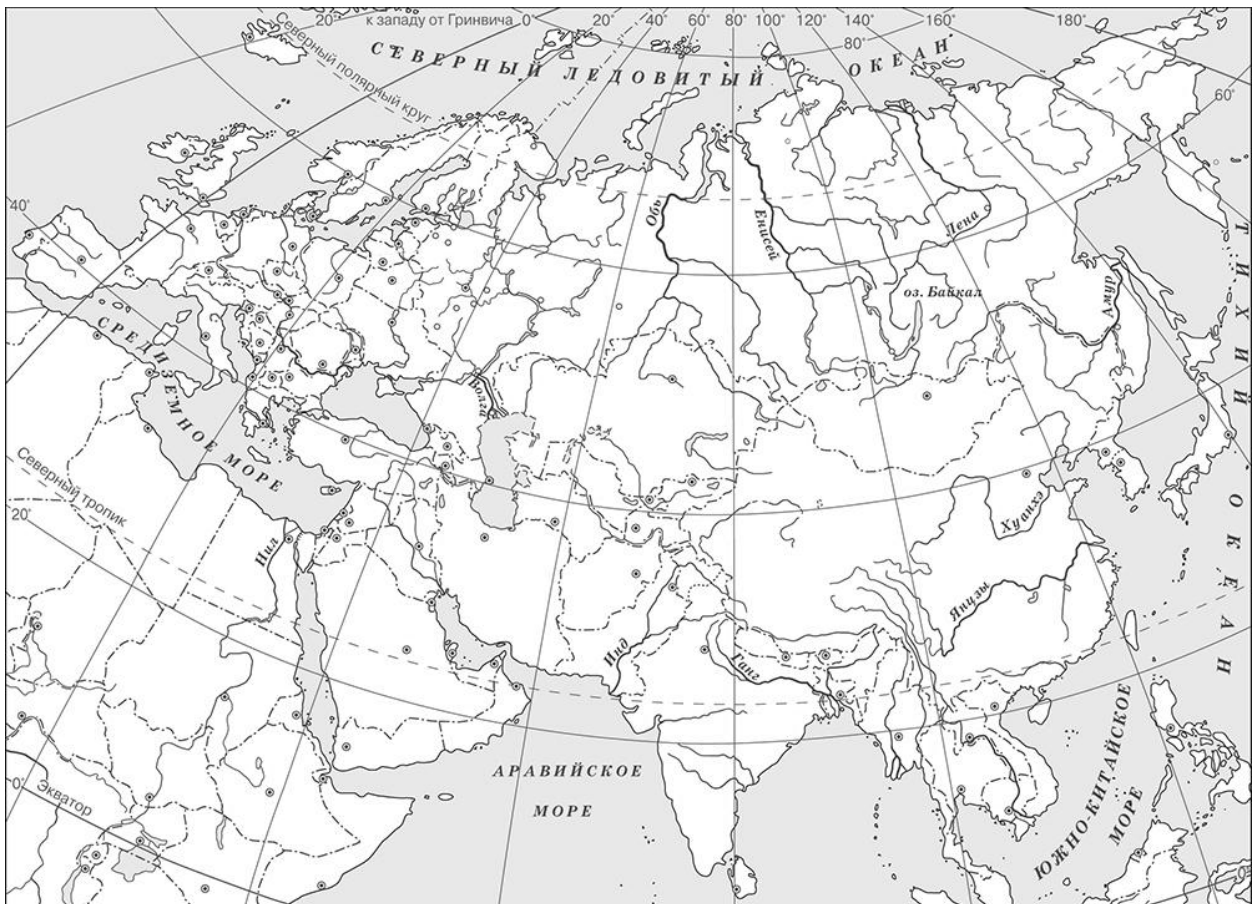
Укажите две исторические личности, которые были непосредственно связаны с взаимоотношениями киевской власти с племенным союзом древлян в X в. Укажите одно любое действие каждой из этих личностей, в значительной степени повлиявшее на взаимоотношения киевской власти с племенным союзом древлян в X в.

Ответ:

Личности	Действия
1.	
2.	

5

Заштрихуйте на контурной карте один четырёхугольник, образованный градусной сеткой, в котором находилась столица Золотой Орды – город Сарай.



6

Запишите название любого географического объекта (города, населённого пункта, реки или др.), который непосредственно связан с деятельностью представителей Русской Православной Церкви в первой половине XIV в.

Объясните, как указанный Вами географический объект (город, населённый пункт, река или др.) связан с деятельностью представителей Русской Православной Церкви в первой половине XIV в.

Ответ (название объекта): _____


Объяснение: _____

7

Используя знание исторических фактов, объясните, почему деятельность представителей Русской Православной Церкви в первой половине XIV в. имела важное значение для истории нашей страны.

Ответ: _____

Рассмотрите изображения



8) На каких двух изображениях представлены памятники культуры России, а на каких – памятники культуры зарубежных стран? Запишите в таблицу порядковые номера соответствующих изображений.

□ Ответ:

Памятники культуры России		Памятники культуры зарубежных стран	

9) Заполните пропуск в предложении: «Живописное изображение Бога или святых, написанное на доске, являющееся предметом религиозного поклонения, называется _____».

□ Ответ: _____

