

Система оценивания проверочной работы по химии

Правильный ответ на каждое из заданий 1.1, 6.2, 6.3 оценивается 1 баллом.

Полный правильный ответ на каждое из заданий 8 и 9 оценивается 2 баллами. Если в ответе допущена одна ошибка (в том числе написана лишняя цифра, или не написана одна необходимая цифра), выставляется 1 балл; если допущено две или более ошибки – 0 баллов.

Полный правильный ответ на задание 3.1 оценивается 3 баллами. Если в ответе допущена одна ошибка (неправильно заполнена одна клетка таблицы), выставляется 2 балла; если допущено две ошибки (неправильно заполнены две клетки таблицы), выставляется 1 балл, если все клетки таблицы заполнены неправильно – 0 баллов.

№ задания	Ответ
8	5431
9	12

1

Предметом изучения химии являются вещества.

1.1. Внимательно рассмотрите предложенные рисунки. Укажите номер рисунка, на котором изображён объект, содержащий индивидуальное химическое вещество.



Рис. 1



Рис. 2



Рис. 3

Индивидуальное химическое вещество содержится в объекте, изображённом на рисунке:

1.2. Какие вещества содержатся в объектах, изображённых на остальных рисунках? Приведите по ОДНОМУ примеру.

Для каждого вещества укажите его химическое название и формулу.

Рис. 1: _____ (название) _____ (формула).

Рис. 2: _____ (название) _____ (формула).

Рис. 3: _____ (название) _____ (формула).

1.1	3
-----	---

1.2.

Содержание верного ответа и указания по оцениванию (допускаются иные формулировки ответа, не искажающие его смысла)	Баллы
В правильном ответе для рис. 1 и 2 должны быть приведены <u>примеры веществ с указанием их названий и формул</u> , например: для рис. 1: медь Cu; для рис. 2: вода H ₂ O. Для рис. 3 должны быть указаны название и формула индивидуального химического вещества: азот N ₂ . Для рис. 1 и 2 могут быть приведены другие примеры веществ и соответствующие им формулы. <i>При оценивании в качестве правильного ответа принимается только название вещества с соответствующей формулой; указание только названия или только формулы вещества не засчитывается в качестве правильного ответа</i>	
Правильно указаны названия и формулы веществ для трёх рисунков	3
Правильно указаны названия и формулы веществ для любых двух рисунков	2
Правильно указаны название и формула вещества только для одного любого рисунка	1
Ответ неправильный	0
<i>Максимальный балл</i>	3

2 Превращение одних веществ в другие называется химической реакцией.

2.1. Из представленных ниже рисунков выберите тот, на котором изображено протекание химической реакции.

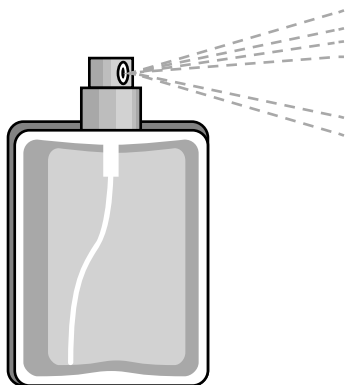


Рис. 1



Рис. 2




Рис. 3

Протекание химической реакции изображено на рисунке:



Объясните сделанный Вами выбор: _____

2.2. Укажите один ЛЮБОЙ признак протекания этой химической реакции:

2.1

Содержание верного ответа и указания по оцениванию (допускаются иные формулировки ответа, не искажающие его смысла)	Баллы
Правильный ответ должен содержать следующие <u>элементы</u> : 1) <u>указание рисунка</u> : 2; 2) <u>объяснение выбора</u> , например: потому что в ходе реакции горения образуются новые химические вещества. (Может быть дано иное объяснение выбора рисунка.)	
Правильно указан рисунок и дано объяснение	1
Правильно указан только рисунок. ИЛИ Рисунок не указан / указан неправильно независимо от наличия объяснений. ИЛИ Ответ неправильный	0
<i>Максимальный балл</i>	<i>1</i>

2.2

Содержание верного ответа и указания по оцениванию (допускаются иные формулировки ответа, не искажающие его смысла)	Баллы
В правильном ответе должен быть указан <u>признак</u> протекания химической реакции из п. 2.1, например: изменяется цвет дров (они обугливаются). Может быть указан иной признак	
Признак протекания химической реакции из п. 2.1 указан правильно	1
Ответ неправильный ИЛИ отсутствует	0
<i>Максимальный балл</i>	<i>1</i>

3

В таблице приведены названия и химические формулы некоторых газообразных веществ.

№	Название вещества	Формула	Молярная масса, г/моль
1	Метан	CH ₄	
2	Бромоводород	HBr	
3	Сернистый газ	SO ₂	

3.1. Используя предложенные Вам справочные материалы, вычислите молярные массы каждого из газов и запишите полученные данные в таблицу.

3.2. В вашем распоряжении имеется пустая колба. Каким из приведённых в таблице газов следует наполнить эту колбу, чтобы её масса была минимальной? Укажите номер вещества.

Ответ:

Объясните свой выбор:

3.1	$M(\text{CH}_4) = 16 \text{ г/моль}; M(\text{HBr}) = 81 \text{ г/моль}; M(\text{SO}_2) = 64 \text{ г/моль}$
-----	---

3.2

Содержание верного ответа и указания по оцениванию (допускаются иные формулировки ответа, не искажающие его смысла)	Баллы
Правильный ответ должен содержать следующие <u>элементы</u> : 1) <u>указание газа</u> : метан (1); 2) <u>объяснение выбора</u> , например: согласно закону Авогадро, в равных объёмах газов, взятых при одинаковых температуре и давлении, содержится равное число молекул; поскольку $M(\text{CH}_4) < M(\text{HBr})$ и $M(\text{CH}_4) < M(\text{SO}_2)$, то минимальную массу будет иметь колба с метаном CH ₄ . (Объяснение может быть сформулировано иначе.)	
Правильно указан газ и дано объяснение	2
Правильно указан газ	1
Газ не указан / указан неправильно независимо от наличия объяснения. ИЛИ Ответ неправильный	0
<i>Максимальный балл</i>	2

4

Даны два химических элемента: **А** и **Б**. Известно, что в атоме элемента **А** содержится 19 электронов, а в атоме элемента **Б** – на 5 электронов меньше.

4.1. Используя Периодическую систему химических элементов Д.И. Менделеева, определите химические элементы **А** и **Б**.

4.2. Укажите номер периода и номер группы в Периодической системе химических элементов Д.И. Менделеева, в которых расположен каждый элемент.

4.3. Установите, металлом или неметаллом являются простые вещества, образованные этими химическими элементами.

4.4. Составьте формулы высших оксидов, которые образуют элементы **А** и **Б**.

Ответы запишите в таблицу.

Элемент	Название химического элемента	Номер		Металл или неметалл	Формула высшего оксида
		периода	группы		
А					
Б					

Содержание верного ответа и указания по оцениванию (допускаются иные формулировки ответа, не искажающие его смысла)					Баллы
Правильный ответ должен содержать заполненную <u>таблицу</u> :					
Элемент	Название химического элемента	Номер		Металл или неметалл	Формула высшего оксида
		периода	группы		
А	Калий	4	I	Металл	K_2O
Б	Кремний	3	IV	Неметалл	SiO_2
Определение химических элементов					2
Правильно записаны названия элементов А и Б					2
Правильно записано название только одного элемента					1
Ответ неправильный					0
Определение номера периода и номера группы в Периодической системе					2
Правильно указаны номер периода и номер группы для двух элементов					2
Правильно указаны номер периода и номер группы для одного любого элемента					1
Ответ неправильный					0
Указание, металлом или неметаллом являются простые вещества					1
Правильно указано, металлом или неметаллом являются простые вещества, образованные химическими элементами А и Б					1
Дано верное указание только для одного элемента. ИЛИ Ответ неправильный					0
Запись формул высших оксидов					2
Правильно записаны формулы высших оксидов, которые образуют оба элемента					2
Правильно записана формула высшего оксида, который образует один из элементов					1
Ответ неправильный					0
<i>Максимальный балл</i>					<i>7</i>

5

Восьмиклассник Василий съел за обедом в составе порции второго блюда 200 г отварного картофеля.

5.1. Используя данные приведённой ниже таблицы, определите, какую массу жиров получил при этом организм юноши. Ответ подтвердите расчётом.

Содержание жиров в некоторых овощных блюдах

Блюдо	Картофель отварной	Капуста тушёная	Морковные котлеты	Картофель жареный	Лук жареный
Массовая доля жиров, %	0,4	3,3	6,8	9,5	15,1

Решение: _____

Ответ: _____

5.2. Какую долю суточной физиологической нормы (90 г) составляет потреблённое Василием количество жиров? Ответ подтвердите расчётом.

Решение: _____

Ответ: _____

5.1.

Содержание верного ответа и указания по оцениванию (допускаются иные формулировки ответа, не искажающие его смысла)	Баллы
Должен быть приведён расчёт и дан правильный ответ: $m(\text{жиров}) = 200 \text{ г} \times 0,004 = 0,8 \text{ г}$	
Дан расчёт, обоснованно приведший к правильному ответу	1
Расчёт не привёл к правильному ответу. ИЛИ Расчёт отсутствует / проведён неправильно независимо от наличия правильного ответа. ИЛИ Ответ неправильный	0
<i>Максимальный балл</i>	<i>1</i>

5.2.

Содержание верного ответа и указания по оцениванию (допускаются иные формулировки ответа, не искажающие его смысла)	Баллы
Должен быть приведён расчёт и дан правильный ответ: $\alpha = 0,8 \text{ г} / 90 \text{ г} = 0,0089$ (или 0,89%)	
Дан расчёт, обоснованно приведший к правильному ответу	1
Расчёт не привёл к правильному ответу. ИЛИ Расчёт отсутствует / проведён неправильно независимо от наличия правильного ответа. ИЛИ Ответ неправильный	0
<i>Максимальный балл</i>	<i>1</i>

6

Имеется следующий перечень химических веществ: натрий, хлор, хлорид натрия, нитрат магния, гидроксид калия, нитрат калия, гидроксид магния. Используя этот перечень, выполните задания 6.1–6.5.

6.1. Напишите химические формулы каждого из указанных веществ.

Натрий – _____. Хлор – _____. Хлорид натрия – _____.

Нитрат магния – _____. Гидроксид калия – _____.

Нитрат калия – _____. Гидроксид магния – _____.

6.2. Какое из веществ, упоминаемых в перечне, соответствует следующему описанию: «Мягкий металл серебристо-белого цвета, легко режется ножом»?

Ответ: _____

6.3. Из данного перечня выберите ЛЮБОЕ СЛОЖНОЕ вещество, НЕ СОДЕРЖАЩЕЕ атомов щелочных металлов. Запишите химическую формулу этого вещества и укажите, к какому классу неорганических соединений оно относится.

Вещество – _____. Класс соединений – _____.

6.4. Из приведённого перечня веществ выберите ЛЮБОЕ соединение, состоящее из атомов ТРЁХ элементов. Вычислите массовую долю кислорода в этом соединении.

Вещество – _____.

Решение: _____

Ответ: _____

6.5. Вычислите массу 0,6 моль газообразного хлора.

Решение: _____

Ответ: _____

6.1

Содержание верного ответа и указания по оцениванию (допускаются иные формулировки ответа, не искажающие его смысла)	Баллы
Правильный ответ должен содержать следующие <u>элементы</u> : 1) формулы простых веществ: натрий – Na; хлор – Cl ₂ ; 2) формулы сложных веществ: хлорид натрия – NaCl; нитрат магния – Mg(NO ₃) ₂ ; гидроксид калия – KOH; нитрат калия – KNO ₃ ; гидроксид магния – Mg(OH) ₂	
Запись формул простых веществ, а также хлорида натрия	1
Правильно записаны формулы трёх указанных веществ	1
При записи формул этих веществ допущена одна ошибка или более	0
Запись формул нитрата магния, гидроксида калия, нитрата калия и гидроксида магния	2
Правильно записаны формулы четырёх указанных веществ	2
Правильно записаны формулы только трёх веществ	1
Правильно записаны формулы только двух веществ. ИЛИ Правильно записана формула только одного вещества. ИЛИ Ответ неправильный	0
<i>Максимальный балл</i>	3

6.2	натрий ИЛИ Na
6.3	нитрат магния Mg(NO ₃) ₂ – соль (средняя соль) ИЛИ гидроксид магния Mg(OH) ₂ – основание

6.4

Содержание верного ответа и указания по оцениванию (допускаются иные формулировки ответа, не искажающие его смысла)	Баллы
Вещества, состоящие из атомов трёх элементов, – нитрат магния, гидроксид калия, нитрат калия и гидроксид магния. Если выбран нитрат магния, то $\omega(\text{O в Mg(NO}_3)_2) = (6 \times 16) / (24 + 2 \times 14 + 6 \times 16) = 0,649$ (или 64,9%). Если выбран гидроксид калия, то $\omega(\text{O в KOH}) = 16 / (39 + 16 + 1) = 0,286$ (или 28,6%). Если выбран нитрат калия, то $\omega(\text{O в KNO}_3) = (3 \times 16) / (39 + 14 + 3 \times 16) = 0,475$ (или 47,5%). Если выбран гидроксид магния, то $\omega(\text{O в Mg(OH)}_2) = (2 \times 16) / (24 + 2 \times 16 + 2 \times 1) = 0,552$ (или 55,2%)	
Правильно выбрано соединение и вычислена в нём массовая доля кислорода	1
Правильно только выбрано соединение. ИЛИ Соединение не выбрано / выбрано неправильно независимо от наличия расчётов. ИЛИ Ответ неправильный	0
<i>Максимальный балл</i>	1

6.5

Содержание верного ответа и указания по оцениванию (допускаются иные формулировки ответа, не искажающие его смысла)	Баллы
Должен быть приведён расчёт и дан правильный ответ: масса хлора: $m(\text{Cl}_2) = 0,6 \text{ моль} \times 71 \text{ г/моль} = 42,6 \text{ г}$	
Дан расчёт, обоснованно приведший к правильному ответу	1
Расчёт не привёл к правильному ответу. ИЛИ Расчёт отсутствует / проведён неправильно независимо от наличия правильного ответа. ИЛИ Ответ неправильный	0
<i>Максимальный балл</i>	<i>1</i>

7

Ниже даны описания двух химических превращений с участием веществ, перечень которых был приведён в задании 6:

(1) натрий + хлор \rightarrow хлорид натрия;

(2) нитрат магния + гидроксид калия \rightarrow нитрат калия + гидроксид магния.

7.1. Составьте уравнения указанных реакций, используя химические формулы веществ из п. 6.1.

(1) _____

(2) _____

7.2. В зависимости от числа и состава веществ, вступающих в химическую реакцию и образующихся в результате неё, различают реакции соединения, разложения, замещения и обмена. Выберите ЛЮБУЮ реакцию (1) или (2) и укажите её тип.

Реакция:

Тип – _____.

Объясните свой ответ: _____

7.3. Из приборов, изображённых на рисунках, выберите тот, с помощью которого можно отделить гидроксид магния от раствора нитрата калия.



Рис. 1

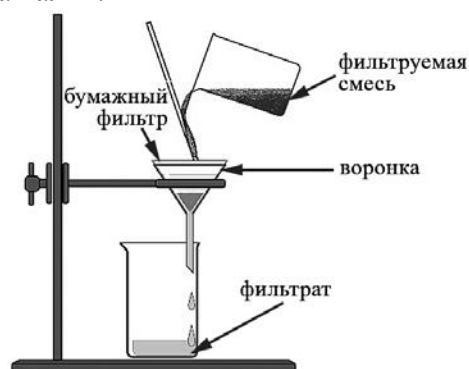


Рис. 2

Отделить гидроксид магния от раствора нитрата калия можно с помощью прибора, изображённого на рисунке:

Какой метод разделения веществ при этом используется?

Ответ: метод _____.

Почему прибор, изображённый на другом рисунке, не может быть использован для отделения гидроксида магния?

Объяснение: _____

7.1

Содержание верного ответа и указания по оцениванию (допускаются иные формулировки ответа, не искажающие его смысла)	Баллы
Уравнения реакций: (1) $2\text{Na} + \text{Cl}_2 = 2\text{NaCl}$; (2) $\text{Mg}(\text{NO}_3)_2 + 2\text{KOH} = 2\text{KNO}_3 + \text{Mg}(\text{OH})_2$	
Правильно составлены уравнения двух реакций	2
Правильно составлено уравнение только одной любой реакции	1
Ответ неправильный	0
<i>Максимальный балл</i>	2

7.2

Содержание верного ответа и указания по оцениванию (допускаются иные формулировки ответа, не искажающие его смысла)	Баллы
В правильном ответе должна быть <u>выбрана реакция, указан её тип и приведено объяснение</u> , например: реакция (1) – реакция соединения (из двух веществ получается одно вещество), ИЛИ реакция (2) – реакция обмена (два сложных вещества – нитрат магния и гидроксид калия – обмениваются составными частями (ионами))	
Правильно указан тип выбранной реакции, приведено объяснение	1
Реакция не выбрана. ИЛИ Тип выбранной реакции не указан / указан неправильно независимо от наличия объяснения. ИЛИ Ответ неправильный	0
<i>Максимальный балл</i>	1

7.3

Содержание верного ответа и указания по оцениванию (допускаются иные формулировки ответа, не искажающие его смысла)	Баллы
Правильный ответ должен содержать следующие <u>элементы</u> : 1) <u>номер рисунка</u> : рис. 2; 2) <u>метод</u> : фильтрование; 3) <u>объяснение</u> , например: прибор, изображённый на рис. 1, используется для разделения двух несмешивающихся жидкостей с различной плотностью; поскольку гидроксид магния не является жидкостью, отделить его от раствора нитрата калия с помощью этого прибора нельзя. (Может быть дано иное объяснение.)	
1. Указание номера рисунка и метода	1
Правильно указаны номер рисунка и метод	1
Правильно указан только номер рисунка / метод. ИЛИ Номер рисунка не указан / указан неправильно независимо от указания метода	0
2. Объяснение	1
Дано корректное объяснение	1
Ответ неправильный	0
<i>Максимальный балл</i>	2

Система оценивания выполнения всей работы

Максимальный балл за выполнение работы – **36** баллов.

Рекомендуемая таблица перевода баллов в отметки по пятибалльной шкале

Отметка по пятибалльной шкале	«2»	«3»	«4»	«5»
Первичные баллы	0–9	10–18	19–27	28–36