

Проверочная работа
по МАТЕМАТИКЕ
4 КЛАСС

Вариант 1

Инструкция по выполнению работы

На выполнение работы по математике даётся 45 минут. Работа содержит 12 заданий.

В заданиях, после которых есть поле со словом «Ответ», запиши ответ в указанном месте.

В заданиях 5 (пункт 2) и 11 нужно сделать чертёж или рисунок. В задании 10 нужно записать ответ, заполнив приведённую форму.

В заданиях, после которых есть поле со словами «Решение» и «Ответ», запиши решение и ответ в указанном месте.

Если ты хочешь изменить ответ, то зачеркни его и запиши рядом новый.

При выполнении работы нельзя пользоваться учебниками, рабочими тетрадями, справочниками, калькулятором.

При необходимости можно пользоваться черновиком. Записи в черновике проверяться и оцениваться не будут.

Советуем выполнять задания в том порядке, в котором они даны. Для экономии времени пропускай задание, которое не удаётся выполнить сразу, и переходи к следующему. Постарайся выполнить как можно больше заданий.

Желаем успеха!

6 В зоопарке каждый год у зверей рождаются детёныши. Количество детёнышей, которые родились за последние три года, показано в таблице. Используя эти данные, ответь на вопросы.

Детёныши	2014 г.	2015 г.	2016 г.
Львята	2	3	0
Тигрята	4	2	6
Котята пантеры	0	6	3
Волчата	1	2	4

1) Сколько котят пантеры родилось в зоопарке в 2015 году?

<div style="border: 1px dashed black; width: 40px; height: 30px; margin-bottom: 5px;"></div> Ответ:	
---	--

2) Каких детёнышей родилось за последние три года больше всего?

<div style="border: 1px solid black; width: 40px; height: 30px; margin-bottom: 5px;"></div> Ответ:	
--	--

7 Найди значение выражения $155 \cdot 4 - 575 : 5$.

<div style="border: 1px solid black; width: 40px; height: 30px; margin-bottom: 5px;"></div> Ответ:	
--	--

8 Большая упаковка пастилы стоит 200 рублей, маленькая стоит меньше. Марина купила две большие упаковки, четыре маленькие, отдала продавцу 1000 рублей и получила 80 рублей сдачи. Сколько рублей стоит маленькая упаковка пастилы?

Запиши решение и ответ.

Решение:	
Решение:	
Решение:	
Решение:	
<div style="border: 1px solid black; width: 40px; height: 30px; margin-bottom: 5px;"></div> Ответ:	

10

Люба написала сочинение «Наша дача».

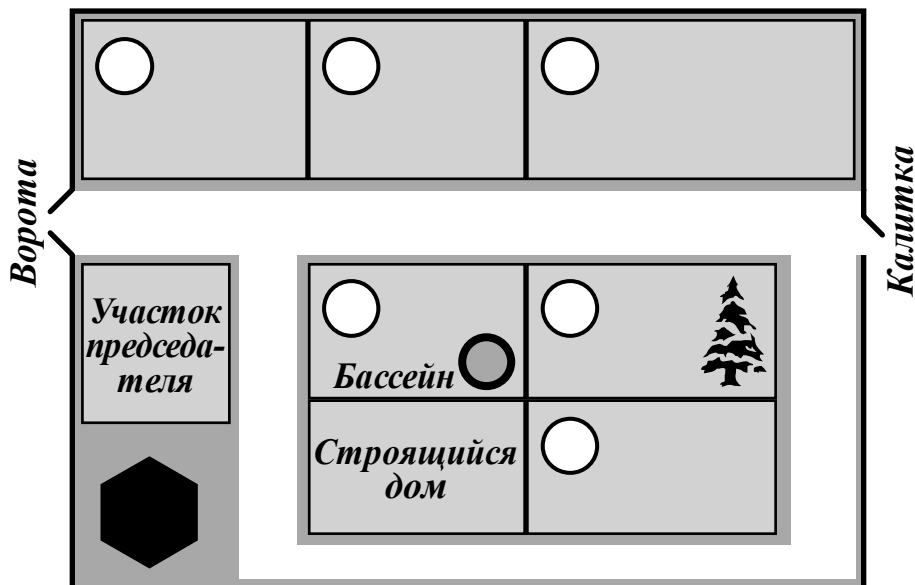
Наш дачный посёлок правильно называется «кооператив». У нас есть водонапорная башня, которая на плане обозначена шестиугольником. Башня хоть и ржавая, но работает, и поэтому у нас есть водопровод. Водопровод нам очень нужен, потому что на нашем участке папа сделал бассейн.

Если выйти с нашего участка и повернуть налево, то придёшь к воротам, а если направо, то будет калитка, через которую мы ходим в лес.

Между нашим участком и калиткой есть ещё один участок, там растёт большая ель, а живёт Алексей Петрович. За его участком дача Степана Ивановича. Степан Иванович врач, и в прошлом году он вылечил больную спину Марии Петровны. Мария Петровна тоже наша соседка, только она живёт с другой стороны посёлка у самых ворот. Если въехать в ворота, то справа дача председателя нашего кооператива, а слева как раз дача Марии Петровны, а за ней ещё две: сначала участок Ильи Михайловича, а ближе к калитке — дача Ивана Павловича. Иван Павлович знает все грибы в лесу — какие хорошие, а какие ядовитые. Поэтому, когда мы идём за грибами, всегда зовём его с собой. Он никогда не отказывается, только ворчит, что мы грибы собирать не умеем и наберём поганок.

Рассмотри план дачного кооператива и, пользуясь описанием, которое дала Люба, обозначь цифрами на плане шесть участков.

1. Участок, где живёт автор сочинения Люба.
2. Участок Алексея Петровича.
3. Участок Степана Ивановича.
4. Участок Марии Петровны.
5. Участок Ильи Михайловича.
6. Участок Ивана Павловича.



- 11 На столбе висела табличка (рис. 1). Верхний винт, державший табличку, выпал, и табличка перевернулась. Нарисуй, как будет выглядеть перевернутая табличка с надписью (рис. 2).

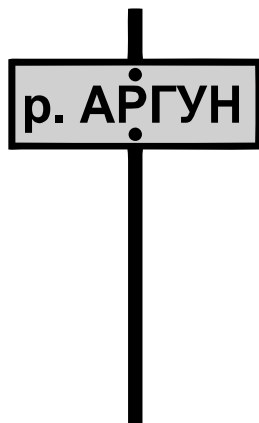


Рис. 1

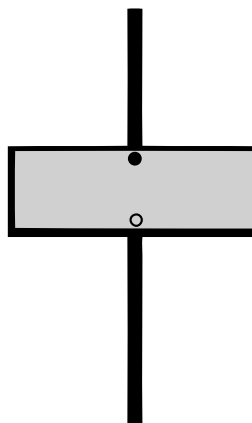


Рис. 2

- 12 Журавль стоит на двух ногах. А цапля — на одной ноге. Лягушка, сидя в болоте, насчитала 18 ног. Известно, что на болоте журавлей и цапель всего 11. Сколько на болоте цапель?

Запиши решение и ответ.

Решение:

Ответ: