

ВСЕРОССИЙСКАЯ ПРОВЕРОЧНАЯ РАБОТА**ХИМИЯ****11 КЛАСС****Пояснения к образцу всероссийской проверочной работы**

При ознакомлении с образцом проверочной работы следует иметь в виду, что задания, включённые в образец, не отражают всех умений и вопросов содержания, которые будут проверяться в рамках всероссийской проверочной работы. Полный перечень элементов содержания и умений, которые могут проверяться в работе, приведены в кодификаторе элементов содержания и требований к уровню подготовки выпускников для разработки всероссийской проверочной работы по химии. Назначение образца проверочной работы заключается в том, чтобы дать представление о структуре всероссийской проверочной работы, количестве и форме заданий, об уровне их сложности.

ВСЕРОССИЙСКАЯ ПРОВЕРОЧНАЯ РАБОТА**ХИМИЯ****11 КЛАСС****ОБРАЗЕЦ****Инструкция по выполнению работы**

Проверочная работа включает в себя 15 заданий. На выполнение работы по химии отводится 1 час 30 минут (90 минут).

Оформляйте ответы в тексте работы согласно инструкциям к заданиям. В случае записи неверного ответа зачеркните его и запишите рядом новый.

При выполнении работы разрешается использовать следующие дополнительные материалы:

- Периодическая система химических элементов Д.И. Менделеева;
- таблица растворимости солей, кислот и оснований в воде;
- электрохимический ряд напряжений металлов;
- непрограммируемый калькулятор.


При выполнении заданий Вы можете использовать черновик. Записи в черновике проверяться и оцениваться не будут.

Советуем выполнять задания в том порядке, в котором они даны. Для экономии времени пропускайте задание, которое не удаётся выполнить сразу, и переходите к следующему. Если после выполнения всей работы у Вас останется время, Вы сможете вернуться к пропущенным заданиям.

Баллы, полученные Вами за выполненные задания, суммируются. Постарайтесь выполнить как можно больше заданий и набрать наибольшее количество баллов.

Желаем успеха!

- 1 Из курса химии Вам известны следующие методы познания веществ и явлений: *наблюдение, эксперимент, измерение, моделирование* и др.
На рис. 1–3 изображены примеры применения некоторых из этих методов.



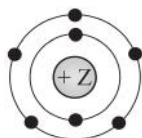
Определите, какие из изображённых на рисунках методов можно применить для:

- качественного анализа состава сульфата меди(II);
- иллюстрации химического строения вещества.

Запишите в таблицу название метода познания и соответствующий этому методу номер рисунка.

Химическое исследование	Метод познания	Номер рисунка
Качественный анализ состава сульфата меди(II)		
Иллюстрация химического строения вещества		

- 2 На рисунке изображена модель электронного строения атома некоторого химического элемента.



На основании анализа предложенной модели выполните следующие задания:

- определите химический элемент, атом которого имеет такое электронное строение;
- укажите номер периода и номер группы в Периодической системе химических элементов Д.И. Менделеева, в которых расположен этот элемент;
- определите, к металлам или неметаллам относится простое вещество, которое образует этот химический элемент.

Ответы запишите в таблицу.

Символ химического элемента	№ периода	№ группы	Металл/неметалл

- 3 Периодическая система химических элементов Д.И. Менделеева – богатое хранилище информации о химических элементах, их свойствах и свойствах их соединений. Так, например, известно, что с увеличением порядкового номера химического элемента способность атомов принимать электроны – электроотрицательность – в периодах усиливается, а в группах ослабевает.
Учитывая эти закономерности, расположите в порядке увеличения электроотрицательности следующие элементы: хлор, кремний, сера, фосфор. В ответе запишите символы элементов в нужной последовательности.

Ответ: _____

- 4 В приведённой ниже таблице перечислены характерные свойства веществ, которые имеют молекулярное и ионное строение.

Характерные свойства веществ	
Молекулярного строения	Ионного строения
<ul style="list-style-type: none"> при обычных условиях имеют жидкое, газообразное и твёрдое агрегатные состояния; имеют низкие значения температур кипения и плавления; неэлектропроводные; имеют низкую теплопроводность 	<ul style="list-style-type: none"> твёрдые при обычных условиях; хрупкие; тугоплавкие; нелетучие; в расплавах и растворах проводят электрический ток

Используя данную информацию, определите, какое строение имеют вещества азот (N₂) и поваренная соль (NaCl). Запишите ответ в отведённом месте.

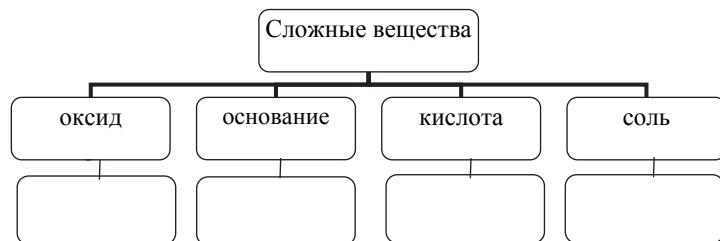
- азот (N₂) _____
- поваренная соль (NaCl) _____

Прочитайте следующий текст и выполните задания 5–7.

Аммиак (NH_3) в промышленности получают взаимодействием азота и водорода при температуре $400\text{--}450^\circ\text{C}$ под давлением в присутствии катализатора. В лаборатории аммиак можно получить, например, взаимодействием хлорида аммония (NH_4Cl) со щелочами (например, $\text{Ca}(\text{OH})_2$). Аммиак – газ с характерным резким запахом, очень хорошо растворяется в воде. Водный раствор аммиака называется аммиачная вода или нашатырный спирт. С его помощью можно привести в чувство человека при обмороке, хирурги обрабатывают им руки перед операцией. Помимо того, этот препарат нашёл широкое применение в косметологии.

Аммиак легко взаимодействует с кислотами, образуя соли аммония. Так, аммиак с азотной кислотой (HNO_3) образует нитрат аммония (NH_4NO_3). За счёт азота в степени окисления -3 аммиак может проявлять восстановительные свойства, взаимодействуя с кислородом, оксидом меди(II) (CuO) или другими окислителями. Аммиак является исходным веществом для получения в промышленности азотной кислоты и азотных удобрений.

- 5 Сложные неорганические вещества условно можно распределить, т. е. классифицировать, по четырём группам, как показано на схеме. Используя формулы приведённых в тексте веществ, впишите в схему по одной формуле вещества соответствующего класса.



- 6 1. Составьте молекулярное уравнение реакции получения аммиака из простых веществ.

Ответ: _____

2. Укажите, с каким тепловым эффектом (с поглощением или выделением теплоты) протекает эта реакция.

Ответ: _____

- 7 1. Составьте молекулярное уравнение упомянутой в тексте реакции между аммиаком и азотной кислотой.

Ответ: _____

2. Укажите, к какому типу (соединения, разложения, замещения, обмена) относится эта реакция.

Ответ: _____

- 8 В исследованной воде из местного колодца были обнаружены следующие катионы металлов: NH_4^+ , K^+ , Ba^{2+} . Для проведения качественного анализа к этой воде добавили раствор Na_2SO_4 .

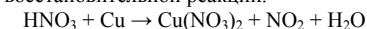
1. Какие изменения в растворе наблюдаются при проведении данного опыта (концентрация веществ достаточная для проведения анализа).

Ответ: _____

2. Запишите сокращённое ионное уравнение произошедшей химической реакции.

Ответ: _____

- 9 Дана схема окислительно-восстановительной реакции.



1. Составьте электронный баланс этой реакции.

Ответ: _____

2. Укажите окислитель и восстановитель.

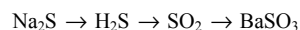
Ответ: _____

3. Расставьте коэффициенты в уравнении реакции.

Ответ: _____

10

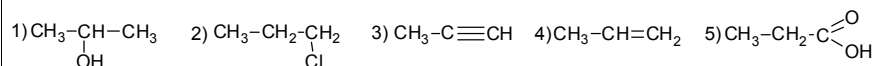
Дана схема превращений:



Напишите молекулярные уравнения реакций, с помощью которых можно осуществить указанные превращения.

- 1) _____
 2) _____
 3) _____

Для выполнения заданий 11–13 используйте вещества, структурные формулы которых приведены в перечне:



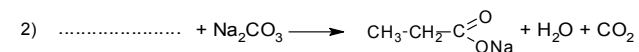
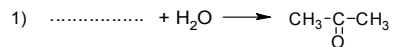
11

Из приведённого перечня выберите вещества, которые соответствуют указанным в таблице классам/группам органических соединений. Запишите в таблицу структурные формулы соответствующих веществ.

Алкин	Карбоновая кислота

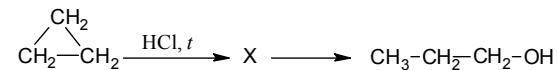
12

В предложенные схемы химических реакций впишите структурные формулы пропущенных веществ, выбрав их из приведённого выше перечня. Расставьте коэффициенты в полученных схемах, чтобы получились уравнения химических реакций.



13

Пропанол-1 применяют в качестве растворителя для восков, чернил, природных и синтетических смол, а также для синтеза пропионовой кислоты, пестицидов, некоторых фармацевтических препаратов. Пропанол-1 можно получить в соответствии с приведённой схемой превращений:



Впишите в заданную схему превращений структурную формулу вещества X, выбрав его из предложенного выше перечня. Запишите уравнения двух реакций, с помощью которых можно осуществить эти превращения. Запишите название вещества X.

- 1) _____
 2) _____
 3) _____

14

Одним из важных понятий в экологии и химии является «предельно допустимая концентрация» (ПДК). ПДК – это такое содержание вредного вещества в окружающей среде, присутствуя в которой постоянно, данное вещество не оказывает в течение всей жизни прямого или косвенного неблагоприятного влияния на настоящее или будущее поколение, не снижает работоспособности человека, не ухудшает его самочувствия и условий жизни.

ПДК углекислого газа в воздухе составляет 9 г/м^3 .

На кухне площадью 6 м^2 и высотой потолка 3 м , оборудованной газовой плитой, при горении бытового газа выделилось 180 г углекислого газа. Определите, превышает ли концентрация углекислого газа в воздухе данного помещения значение ПДК. Предложите способ, позволяющий снизить концентрацию углекислого газа в помещении.

Ответ: _____

15

Для изготовления глазных капель используют 3%-ный раствор иодида калия. Рассчитайте массу иодида калия и массу воды, которые необходимы для приготовления 300 г такого раствора. Запишите подробно ход решения задачи.

Ответ: _____

Ответы и критерии оценивания

№ задания	Ответ		
	Химическое исследование	Метод познания	Номер рисунка
1	Качественный анализ состава сульфата меди(II)	Эксперимент	1
	Иллюстрация химического строения вещества	Моделирование	3
	N; 2; 5 (или V); неметалл		
2	N; 2; 5 (или V); неметалл		
3	Si → P → S → Cl (или Si, P, S, Cl)		
4	Азот (N ₂) имеет молекулярное строение. Поваренная соль (NaCl) имеет ионное строение		
11	35		

Выполнение заданий 1, 2, 4, 11 оценивается следующим образом: 2 балла – нет ошибок; 1 балл – допущена одна ошибка; 0 баллов – допущены две и более ошибки, или ответ отсутствует; верный ответ на задание 3 оценивается 1 баллом.

5

Содержание верного ответа и указания по оцениванию (допускаются иные формулировки ответа, не искажающие его смысла)	Баллы
Элементы ответа: оксид: CuO; основание: Ca(OH) ₂ ; кислота: HNO ₃ ; соль: NH ₄ Cl или NH ₄ NO ₃	
Ответ правильный и полный, содержит все названные выше элементы	2
Правильно заполнены три ячейки схемы	1
Допущены две и более ошибки	0
<i>Максимальный балл</i>	2

6

Содержание верного ответа и указания по оцениванию (допускаются иные формулировки ответа, не искажающие его смысла)	Баллы
Элементы ответа: 1) N ₂ + 3H ₂ = 2NH ₃ 2) реакция протекает с выделением энергии (экзотермическая)	
Ответ правильный и полный, содержит все названные выше элементы	2
Ответ включает один из названных выше элементов	1
Все элементы ответа записаны неверно	0
<i>Максимальный балл</i>	2

7

Содержание верного ответа и указания по оцениванию (допускаются иные формулировки ответа, не искажающие его смысла)	Баллы
Элементы ответа: 1) NH ₃ + HNO ₃ = NH ₄ NO ₃ 2) реакция соединения	
Ответ правильный и полный, содержит все названные выше элементы	2
Ответ включает один из названных выше элементов	1
Все элементы ответа записаны неверно	0
<i>Максимальный балл</i>	2

8

Содержание верного ответа и указания по оцениванию (допускаются иные формулировки ответа, не искажающие его смысла)	Баллы
Элементы ответа: 1) наблюдается выпадение белого осадка; 2) Ba ²⁺ + SO ₄ ²⁻ = BaSO ₄ ↓	
Ответ правильный и полный, содержит все названные выше элементы	2
Ответ включает один из названных выше элементов	1
Все элементы ответа записаны неверно	0
<i>Максимальный балл</i>	2

9	Содержание верного ответа и указания по оцениванию (допускаются иные формулировки ответа, не искажающие его смысла)	Баллы
	Элементы ответа: 1) Составлен электронный баланс: $2 N^{+5} + \bar{e} \rightarrow N^{+4}$ $1 Cu^0 - 2\bar{e} \rightarrow Cu^{+2}$ 2) Указано, что медь в степени окисления 0 является восстановителем, а HNO_3 (или азот в степени окисления +5) – окислителем. 3) Составлено уравнение реакции: $4HNO_3 + Cu = Cu(NO_3)_2 + 2NO_2 + 2H_2O$	
	Ответ правильный и полный, содержит все названные выше элементы	3
	Правильно записаны два из названных выше элементов ответа	2
	Правильно записан один из названных выше элементов ответа	1
	Все элементы ответа записаны неверно	0
	<i>Максимальный балл</i>	3

10	Содержание верного ответа и указания по оцениванию	Баллы
	Написаны уравнения реакций, соответствующих схеме превращений: 1) $Na_2S + 2HCl = 2NaCl + H_2S$ 2) $2H_2S + 3O_2 = 2SO_2 + 2H_2O$ 3) $SO_2 + Ba(OH)_2 = BaSO_3 + H_2O$ (Допускаются иные, не противоречащие условию задания уравнения реакций.)	
	Правильно записаны три уравнения реакций	3
	Правильно записаны два уравнения реакций	2
	Правильно записано одно уравнение реакции	1
	Все уравнения записаны неверно, или ответ отсутствует	0
	<i>Максимальный балл</i>	3

12	Содержание верного ответа и указания по оцениванию	Баллы
	Элементы ответа: 1) $CH_3-C\equiv CH + H_2O \longrightarrow CH_3-\underset{\text{O}}{\underset{ }{C}}-CH_3$ 2) $2CH_3-CH_2-\overset{\text{O}}{\underset{ }{C}}-OH + Na_2CO_3 \longrightarrow 2CH_3-CH_2-\overset{\text{O}}{\underset{ }{C}}-ONa + H_2O + CO_2$	
	Правильно записаны два уравнения реакций	2
	Правильно записано одно уравнение реакции	1
	Все уравнения записаны неверно, или ответ отсутствует	0
	<i>Максимальный балл</i>	2

13	Содержание верного ответа и указания по оцениванию	Баллы
	Элементы ответа: Написаны уравнения реакций, соответствующие схеме: 1) $CH_2-\overset{CH_2}{\diagup}CH_2 + HCl \xrightarrow{t} CH_3-CH_2-\underset{Cl}{CH_2}$ 2) $CH_3-CH_2-\underset{Cl}{CH_2} + KOH \longrightarrow CH_3-CH_2-\underset{OH}{CH_2} + KCl$ 3) Записано название вещества X: 1-хлорпропан	
	Правильно записаны все элементы ответа	3
	Правильно записаны два элемента ответа	2
	Правильно записан один элемент ответа	1
	Все элементы ответа записаны неверно, или ответ отсутствует	0
	<i>Максимальный балл</i>	3

14	Содержание верного ответа и указания по оцениванию (допускаются иные формулировки ответа, не искажающие его смысла)	Баллы
	<p>Элементы ответа:</p> <p>1) Определён объём помещения и определена концентрация углекислого газа в нём: $V(\text{помещения}) = 6 \cdot 3 = 18 \text{ м}^3$ содержание углекислого газа = $180 \text{ г} / 18 = 10 \text{ г/м}^3$</p> <p>2) Сформулирован вывод о превышении ПДК: значение ПДК углекислого газа в помещении превышает показатель 9 г/м^3.</p> <p>3) Сформулировано одно предложение по снижению содержания углекислого газа в помещении: замена газового оборудования на электрическое или регулярное проветривание (вентиляция) помещения</p>	
	Ответ правильный и полный, содержит все названные выше элементы	3
	Правильно записаны два из названных выше элементов ответа	2
	Правильно записан один из названных выше элементов ответа	1
	Все элементы ответа записаны неверно	0
	<i>Максимальный балл</i>	3

15	Содержание верного ответа и указания по оцениванию (допускаются иные формулировки ответа, не искажающие его смысла)	Баллы
	<p>Элементы ответа:</p> <p>1) Рассчитана масса иодида калия: $m(\text{иодида калия}) = 300 \cdot 0,03 = 9 \text{ г}$</p> <p>2) Рассчитана масса воды: $m(\text{воды}) = 300 - 9 = 291 \text{ г}$</p>	
	Ответ правильный и полный, содержит все названные выше элементы	2
	Ответ включает один из названных выше элементов	1
	Все элементы ответа записаны неверно	0
	<i>Максимальный балл</i>	2